



**PRUEBA DE ACCESO A LOS ESTUDIOS
 SUPERIORES DE DISEÑO**

JUNIO 2021

SEGUNDA PARTE

60 % calificación
 Media aritmética del ejercicio 2.1. y 2.2.
 Imprescindible al menos un cinco en la 2ª Parte
 para hacer media con la 1ª Parte

Ejercicio 2.2.:
 Dibujo Técnico
**Representación de un objeto
 tridimensional**

CRITERIOS DE CALIFICACIÓN

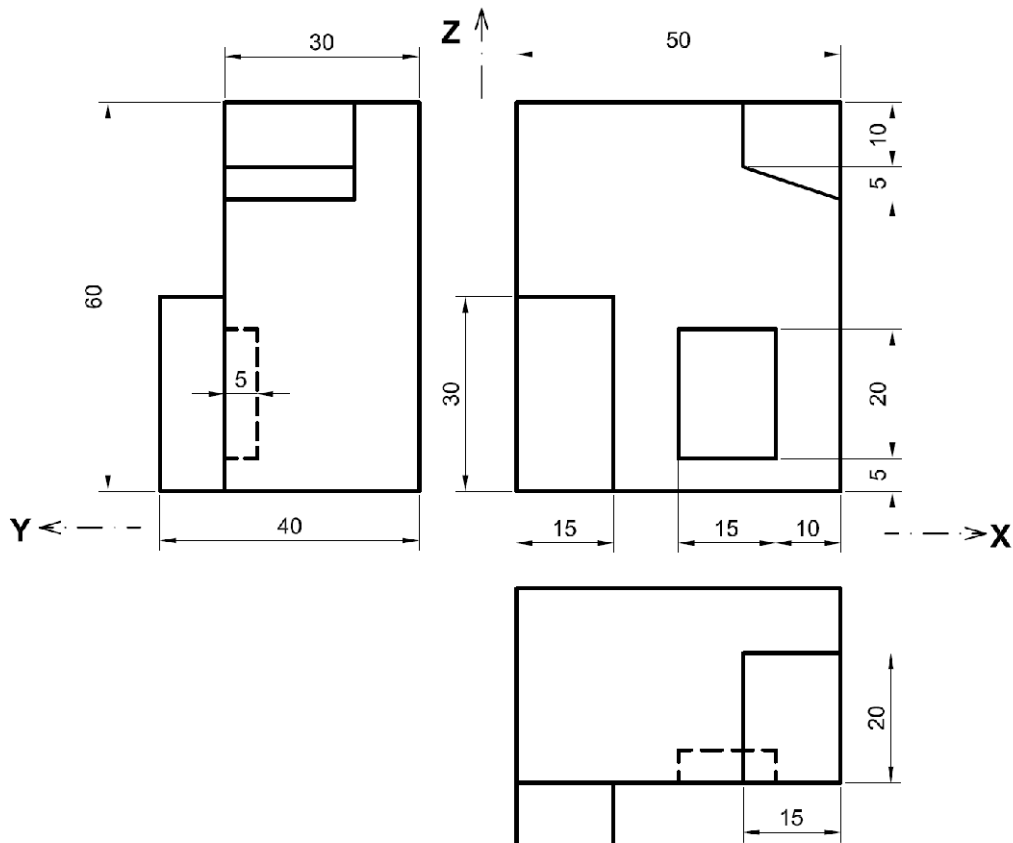
Ejercicio: 2.2. (Imprescindible al menos un cuatro para hacer media)

Conocimiento de la geometría plana.
 Capacidad de representación de vistas y/o perspectivas del modelo propuesto.
 Limpieza y rigurosidad en el trazado.

Fecha y horario:
 22 de junio de 2021
 11:30 – 13:00 horas
 Máximo 90 minutos

Nombre: _____

Enunciado. Dada las vistas del siguiente objeto (cotas en milímetros), representarlo en perspectiva isométrica a escala 1:1 (con útiles de dibujo técnico y a lápiz) y en la orientación dada por los ejes X-Y-Z (eje -Y- hacia la izquierda y eje -X- hacia la derecha).



Criterios de calificación específicos de la prueba:

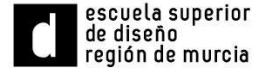
1. Capacidad de representación de la perspectiva del modelo propuesto.
2. Uso correcto de la perspectiva isométrica con útiles de dibujo técnico (hasta un - 20%).
3. Limpieza y rigurosidad en el trazado (hasta un - 10%).



Región de Murcia
Consejería de Educación y Cultura
Dirección General de Innovación Educativa
y Atención a la Diversidad
Servicio de Enseñanzas de Régimen Especial



C/ Periodista Antonio Herrero, 4.
Murcia 30007 / 968 27 05 23
www.esdregiondemurcia.es



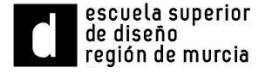
Nota: En el caso de que el alumnado no sea capaz de resolver el ejercicio en perspectiva isométrica podrá realizarlo en la perspectiva que se desee. En este caso, tendrá una calificación de cero en el criterio de calificación 2º.



Región de Murcia
Consejería de Educación y Cultura
Dirección General de Innovación Educativa
y Atención a la Diversidad
Servicio de Enseñanzas de Régimen Especial



C/ Periodista Antonio Herrero, 4.
Murcia 30007 / 968 27 05 23
www.esdregiondemurcia.es



Resolución

Boceto (no evaluable)